

Öğrenci Adı:

Toplam Puanı:

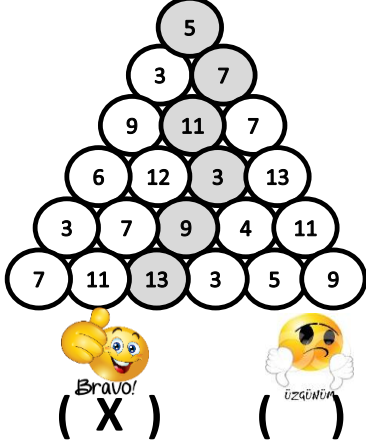
Sihirli Piramit Oyunu

Nasıl Oynanır

Piramidin tepesinden başlayarak birbirine komşu çemberler yardımıyla tabana ulaşan bir yol oluşturulur. Bu yolda birinciden altıncı terime kadar olan rakamlar yalnızca bir kez kullanılmalıdır.

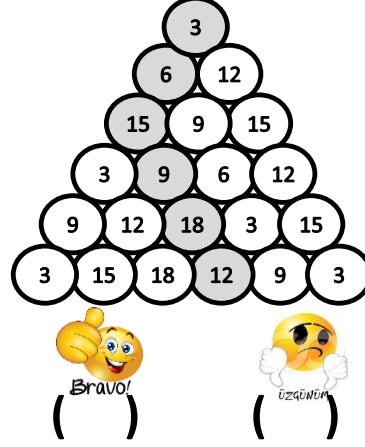
$(2n+1)$ cebirsel ifadesinin 1-6. arasındaki terimleri ile piramit yolunu oluşturun

Terimler: (3) (5) (7) (9) (11) (13)



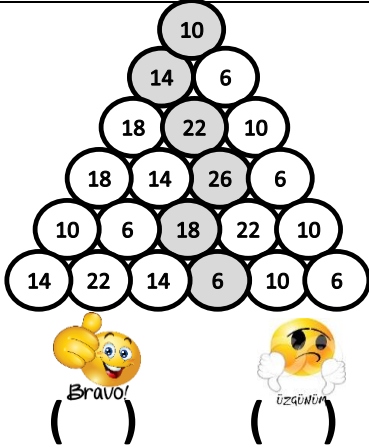
$(3a)$ cebirsel ifadesinin 1-6. arasındaki terimleri ile piramit yolunu oluşturun

Terimler: (3) (6) (9) (12) (15) (18)



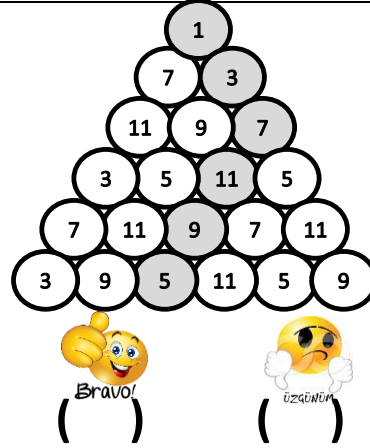
$(4b+2)$ cebirsel ifadesinin 1-6. arasındaki terimleri ile piramit yolunu oluşturun

Terimler: (6) (10) (14) (18) (22) (26)




$(2n-1)$ cebirsel ifadesinin 1-6. arasındaki terimleri ile piramit yolunu oluşturun

Terimler: (1) (3) (5) (7) (9) (11)



$(3b+3)$ cebirsel ifadesinin 1-6. arasındaki terimleri ile piramit yolunu oluşturun

Terimler: (6) (9) (12) (15) (18) (21)



$(a+2)$ cebirsel ifadesinin 1-6. arasındaki terimleri ile piramit yolunu oluşturun

Terimler: (3) (4) (5) (6) (7) (8)

